

МИНИСТЕРСТВО ПРОСВЕЩЕНИЯ РОССИЙСКОЙ ФЕДЕРАЦИИ

Министерство образования Оренбургской области

Управление образования администрации города Оренбурга

Муниципальное общеобразовательное автономное учреждение
«Средняя общеобразовательная школа №47»

РАССМОТРЕНО
на заседании ШМО учителей
предметов физико - математического
цикла
руководитель ШМО

Вас (Васильева Н.В.)

Протокол № 1

от "29" августа 2023г.

СОГЛАСОВАНО
Зам. директора по УВР

zh (Зайко Н.В.)

Протокол
№ 1

от "30" августа 2023 г.

УТВЕРЖДЕНО

Приказ
№ 1

от "1" сентября 2023 г.

РАБОЧАЯ ПРОГРАММА

(ID 2809668)

учебного курса «Вероятность и статистика»

для обучающихся 7-9 классов

г. Оренбург 2023 г.

ПОЯСНИТЕЛЬНАЯ ЗАПИСКА

В современном цифровом мире вероятность и статистика приобретают всё большую значимость, как с точки зрения практических приложений, так и их роли в образовании, необходимом каждому человеку. Возрастает число профессий, при овладении которыми требуется хорошая базовая подготовка в области вероятности и статистики, такая подготовка важна для продолжения образования и для успешной профессиональной карьеры.

Каждый человек постоянно принимает решения на основе имеющихся у него данных. А для обоснованного принятия решения в условиях недостатка или избытка информации необходимо в том числе хорошо сформированное вероятностное и статистическое мышление.

Именно поэтому остро встала необходимость сформировать у обучающихся функциональную грамотность, включающую в себя в качестве неотъемлемой составляющей умение воспринимать и критически анализировать информацию, представленную в различных формах, понимать вероятностный характер многих реальных процессов и зависимостей, производить простейшие вероятностные расчёты.

Знакомство в учебном курсе с основными принципами сбора, анализа и представления данных из различных сфер жизни общества и государства приобщает обучающихся к общественным интересам. Изучение основ комбинаторики развивает навыки организации перебора и подсчёта числа вариантов, в том числе в прикладных задачах. Знакомство с основами теории графов создаёт математический фундамент для формирования компетенций в области информатики и цифровых технологий. При изучении статистики и вероятности обогащаются представления обучающихся о современной картине мира и методах его исследования, формируется понимание роли статистики как источника социально значимой информации и закладываются основы вероятностного мышления.

В соответствии с данными целями в структуре программы учебного курса «Вероятность и статистика» основного общего образования выделены следующие содержательно-методические линии: «Представление данных и описательная статистика», «Вероятность», «Элементы комбинаторики», «Введение в теорию графов».

Содержание линии «Представление данных и описательная статистика» служит основой для формирования навыков работы с информацией: от чтения и интерпретации информации, представленной в таблицах, на диаграммах и графиках, до сбора, представления и анализа данных с использованием статистических характеристик средних и рассеивания. Работая с данными, обучающиеся учатся считывать и интерпретировать

данные, выдвигать, аргументировать и критиковать простейшие гипотезы, размышлять над факторами, вызывающими изменчивость, и оценивать их влияние на рассматриваемые величины и процессы.

Интуитивное представление о случайной изменчивости, исследование закономерностей и тенденций становится мотивирующей основой для изучения теории вероятностей. Большое значение имеют практические задания, в частности опыты с классическими вероятностными моделями.

Понятие вероятности вводится как мера правдоподобия случайного события. При изучении учебного курса обучающиеся знакомятся с простейшими методами вычисления вероятностей в случайных экспериментах с равновероятными элементарными исходами, вероятностными законами, позволяющими ставить и решать более сложные задачи. В учебный курс входят начальные представления о случайных величинах и их числовых характеристиках.

В рамках учебного курса осуществляется знакомство обучающихся с множествами и основными операциями над множествами, рассматриваются примеры применения для решения задач, а также использования в других математических курсах и учебных предметах.

В 7–9 классах изучается учебный курс «Вероятность и статистика», в который входят разделы: «Представление данных и описательная статистика», «Вероятность», «Элементы комбинаторики», «Введение в теорию графов».

На изучение учебного курса «Вероятность и статистика» отводится 102 часа: в 7 классе – 34 часа (1 час в неделю), в 8 классе – 34 часа (1 час в неделю), в 9 классе – 34 часа (1 час в неделю).

СОДЕРЖАНИЕ ОБУЧЕНИЯ

7 КЛАСС

Представление данных в виде таблиц, диаграмм, графиков. Заполнение таблиц, чтение и построение диаграмм (столбиковых (столбчатых) и круговых). Чтение графиков реальных процессов. Извлечение информации из диаграмм и таблиц, использование и интерпретация данных.

Описательная статистика: среднее арифметическое, медиана, размах, наибольшее и наименьшее значения набора числовых данных. Примеры случайной изменчивости.

Случайный эксперимент (опыт) и случайное событие. Вероятность и частота. Роль маловероятных и практически достоверных событий в природе и в обществе. Монета и игральная кость в теории вероятностей.

Граф, вершина, ребро. Степень вершины. Число рёбер и суммарная степень вершин. Представление о связности графа. Цепи и циклы. Пути в графах. Обход графа (эйлеров путь). Представление об ориентированном графе. Решение задач с помощью графов.

8 КЛАСС

Представление данных в виде таблиц, диаграмм, графиков.

Множество, элемент множества, подмножество. Операции над множествами: объединение, пересечение, дополнение. Свойства операций над множествами: переместительное, сочетательное, распределительное, включения. Использование графического представления множеств для описания реальных процессов и явлений, при решении задач.

Измерение рассеивания данных. Дисперсия и стандартное отклонение числовых наборов. Диаграмма рассеивания.

Элементарные события случайного опыта. Случайные события. Вероятности событий. Опыты с равновероятными элементарными событиями. Случайный выбор. Связь между маловероятными и практически достоверными событиями в природе, обществе и науке.

Дерево. Свойства деревьев: единственность пути, существование висячей вершины, связь между числом вершин и числом рёбер. Правило умножения. Решение задач с помощью графов.

Противоположные события. Диаграмма Эйлера. Объединение и пересечение событий. Несовместные события. Формула сложения вероятностей. Условная вероятность. Правило умножения. Независимые события. Представление эксперимента в виде дерева. Решение задач на

нахождение вероятностей с помощью дерева случайного эксперимента, диаграмм Эйлера.

9 КЛАСС

Представление данных в виде таблиц, диаграмм, графиков, интерпретация данных. Чтение и построение таблиц, диаграмм, графиков по реальным данным.

Перестановки и факториал. Сочетания и число сочетаний. Треугольник Паскаля. Решение задач с использованием комбинаторики.

Геометрическая вероятность. Случайный выбор точки из фигуры на плоскости, из отрезка и из дуги окружности.

Испытание. Успех и неудача. Серия испытаний до первого успеха. Серия испытаний Бернулли. Вероятности событий в серии испытаний Бернулли.

Случайная величина и распределение вероятностей. Математическое ожидание и дисперсия. Примеры математического ожидания как теоретического среднего значения величины. Математическое ожидание и дисперсия случайной величины «число успехов в серии испытаний Бернулли».

Понятие о законе больших чисел. Измерение вероятностей с помощью частот. Роль и значение закона больших чисел в природе и обществе.

ПЛАНИРУЕМЫЕ РЕЗУЛЬТАТЫ ОСВОЕНИЯ ПРОГРАММЫ УЧЕБНОГО КУРСА «ВЕРОЯТНОСТЬ И СТАТИСТИКА» НА УРОВНЕ ОСНОВНОГО ОБЩЕГО ОБРАЗОВАНИЯ

ЛИЧНОСТНЫЕ РЕЗУЛЬТАТЫ

Личностные результаты освоения программы учебного курса «Вероятность и статистика» характеризуются:

1) патриотическое воспитание:

проявлением интереса к прошлому и настоящему российской математики, ценностным отношением к достижениям российских математиков и российской математической школы, к использованию этих достижений в других науках и прикладных сферах;

2) гражданское и духовно-нравственное воспитание:

готовностью к выполнению обязанностей гражданина и реализации его прав, представлением о математических основах функционирования различных структур, явлений, процедур гражданского общества (например, выборы, опросы), готовностью к обсуждению этических проблем, связанных с практическим применением достижений науки, осознанием важности морально-этических принципов в деятельности учёного;

3) трудовое воспитание:

установкой на активное участие в решении практических задач математической направленности, осознанием важности математического образования на протяжении всей жизни для успешной профессиональной деятельности и развитием необходимых умений, осознанным выбором и построением индивидуальной траектории образования и жизненных планов с учётом личных интересов и общественных потребностей;

4) эстетическое воспитание:

способностью к эмоциональному и эстетическому восприятию математических объектов, задач, решений, рассуждений, умению видеть математические закономерности в искусстве;

5) ценности научного познания:

ориентацией в деятельности на современную систему научных представлений об основных закономерностях развития человека, природы и общества, пониманием математической науки как сферы человеческой деятельности, этапов её развития и значимости для развития цивилизации, овладением языком математики и математической культурой как средством познания мира, овладением простейшими навыками исследовательской деятельности;

б) физическое воспитание, формирование культуры здоровья и эмоционального благополучия:

готовностью применять математические знания в интересах своего здоровья, ведения здорового образа жизни (здоровое питание, сбалансированный режим занятий и отдыха, регулярная физическая активность), сформированностью навыка рефлексии, признанием своего права на ошибку и такого же права другого человека;

7) экологическое воспитание:

ориентацией на применение математических знаний для решения задач в области сохранности окружающей среды, планирования поступков и оценки их возможных последствий для окружающей среды, осознанием глобального характера экологических проблем и путей их решения;

8) адаптация к изменяющимся условиям социальной и природной среды:

готовностью к действиям в условиях неопределённости, повышению уровня своей компетентности через практическую деятельность, в том числе умение учиться у других людей, приобретать в совместной деятельности новые знания, навыки и компетенции из опыта других;

необходимостью в формировании новых знаний, в том числе формулировать идеи, понятия, гипотезы об объектах и явлениях, в том числе ранее неизвестных, осознавать дефициты собственных знаний и компетентностей, планировать своё развитие;

способностью осознавать стрессовую ситуацию, воспринимать стрессовую ситуацию как вызов, требующий контрмер, корректировать принимаемые решения и действия, формулировать и оценивать риски и последствия, формировать опыт.

МЕТАПРЕДМЕТНЫЕ РЕЗУЛЬТАТЫ

Познавательные универсальные учебные действия

Базовые логические действия:

- выявлять и характеризовать существенные признаки математических объектов, понятий, отношений между понятиями, формулировать определения понятий, устанавливать существенный признак классификации, основания для обобщения и сравнения, критерии проводимого анализа;
- воспринимать, формулировать и преобразовывать суждения: утвердительные и отрицательные, единичные, частные и общие, условные;

- выявлять математические закономерности, взаимосвязи и противоречия в фактах, данных, наблюдениях и утверждениях, предлагать критерии для выявления закономерностей и противоречий;
- делать выводы с использованием законов логики, дедуктивных и индуктивных умозаключений, умозаключений по аналогии;
- разбирать доказательства математических утверждений (прямые и от противного), проводить самостоятельно несложные доказательства математических фактов, выстраивать аргументацию, приводить примеры и контрпримеры, обосновывать собственные рассуждения;
- выбирать способ решения учебной задачи (сравнивать несколько вариантов решения, выбирать наиболее подходящий с учётом самостоятельно выделенных критериев).

Базовые исследовательские действия:

- использовать вопросы как исследовательский инструмент познания, формулировать вопросы, фиксирующие противоречие, проблему, самостоятельно устанавливать искомое и данное, формировать гипотезу, аргументировать свою позицию, мнение;
- проводить по самостоятельно составленному плану несложный эксперимент, небольшое исследование по установлению особенностей математического объекта, зависимостей объектов между собой;
- самостоятельно формулировать обобщения и выводы по результатам проведённого наблюдения, исследования, оценивать достоверность полученных результатов, выводов и обобщений;
- прогнозировать возможное развитие процесса, а также выдвигать предположения о его развитии в новых условиях.

Работа с информацией:

- выявлять недостаточность и избыточность информации, данных, необходимых для решения задачи;
- выбирать, анализировать, систематизировать и интерпретировать информацию различных видов и форм представления;
- выбирать форму представления информации и иллюстрировать решаемые задачи схемами, диаграммами, иной графикой и их комбинациями;
- оценивать надёжность информации по критериям, предложенным учителем или сформулированным самостоятельно.

Коммуникативные универсальные учебные действия:

- воспринимать и формулировать суждения в соответствии с условиями и целями общения, ясно, точно, грамотно выражать свою точку зрения

- в устных и письменных текстах, давать пояснения по ходу решения задачи, комментировать полученный результат;
- в ходе обсуждения задавать вопросы по существу обсуждаемой темы, проблемы, решаемой задачи, высказывать идеи, нацеленные на поиск решения, сопоставлять свои суждения с суждениями других участников диалога, обнаруживать различие и сходство позиций, в корректной форме формулировать разногласия, свои возражения;
 - представлять результаты решения задачи, эксперимента, исследования, проекта, самостоятельно выбирать формат выступления с учётом задач презентации и особенностей аудитории;
 - понимать и использовать преимущества командной и индивидуальной работы при решении учебных математических задач;
 - принимать цель совместной деятельности, планировать организацию совместной работы, распределять виды работ, договариваться, обсуждать процесс и результат работы, обобщать мнения нескольких людей;
 - участвовать в групповых формах работы (обсуждения, обмен мнениями, мозговые штурмы и другие), выполнять свою часть работы и координировать свои действия с другими членами команды, оценивать качество своего вклада в общий продукт по критериям, сформулированным участниками взаимодействия.

Регулятивные универсальные учебные действия

Самоорганизация:

- самостоятельно составлять план, алгоритм решения задачи (или его часть), выбирать способ решения с учётом имеющихся ресурсов и собственных возможностей, аргументировать и корректировать варианты решений с учётом новой информации.

Самоконтроль, эмоциональный интеллект:

- владеть способами самопроверки, самоконтроля процесса и результата решения математической задачи;
- предвидеть трудности, которые могут возникнуть при решении задачи, вносить коррективы в деятельность на основе новых обстоятельств, найденных ошибок, выявленных трудностей;
- оценивать соответствие результата деятельности поставленной цели и условиям, объяснять причины достижения или недостижения цели, находить ошибку, давать оценку приобретённому опыту.

ПРЕДМЕТНЫЕ РЕЗУЛЬТАТЫ

К концу обучения **в 7 классе** обучающийся получит следующие предметные результаты:

Читать информацию, представленную в таблицах, на диаграммах, представлять данные в виде таблиц, строить диаграммы (столбиковые (столбчатые) и круговые) по массивам значений.

Описывать и интерпретировать реальные числовые данные, представленные в таблицах, на диаграммах, графиках.

Использовать для описания данных статистические характеристики: среднее арифметическое, медиана, наибольшее и наименьшее значения, размах.

Иметь представление о случайной изменчивости на примерах цен, физических величин, антропометрических данных, иметь представление о статистической устойчивости.

К концу обучения **в 8 классе** обучающийся получит следующие предметные результаты:

Извлекать и преобразовывать информацию, представленную в виде таблиц, диаграмм, графиков, представлять данные в виде таблиц, диаграмм, графиков.

Описывать данные с помощью статистических показателей: средних значений и мер рассеивания (размах, дисперсия и стандартное отклонение).

Находить частоты числовых значений и частоты событий, в том числе по результатам измерений и наблюдений.

Находить вероятности случайных событий в опытах, зная вероятности элементарных событий, в том числе в опытах с равновероятными элементарными событиями.

Использовать графические модели: дерево случайного эксперимента, диаграммы Эйлера, числовая прямая.

Оперировать понятиями: множество, подмножество, выполнять операции над множествами: объединение, пересечение, дополнение, перечислять элементы множеств, применять свойства множеств.

Использовать графическое представление множеств и связей между ними для описания процессов и явлений, в том числе при решении задач из других учебных предметов и курсов.

К концу обучения **в 9 классе** обучающийся получит следующие предметные результаты:

Извлекать и преобразовывать информацию, представленную в различных источниках в виде таблиц, диаграмм, графиков, представлять данные в виде таблиц, диаграмм, графиков.

Решать задачи организованным перебором вариантов, а также с использованием комбинаторных правил и методов.

Использовать описательные характеристики для массивов числовых данных, в том числе средние значения и меры рассеивания.

Находить частоты значений и частоты события, в том числе пользуясь результатами проведённых измерений и наблюдений.

Находить вероятности случайных событий в изученных опытах, в том числе в опытах с равновозможными элементарными событиями, в сериях испытаний до первого успеха, в сериях испытаний Бернулли.

Иметь представление о случайной величине и о распределении вероятностей.

Иметь представление о законе больших чисел как о проявлении закономерности в случайной изменчивости и о роли закона больших чисел в природе и обществе.

ТЕМАТИЧЕСКОЕ ПЛАНИРОВАНИЕ
7 КЛАСС

№ п/п	Наименование разделов и тем программы	Количество часов			Электронные (цифровые) образовательные ресурсы
		Всего	Контрольные работы	Практические работы	
1	Представление данных	7	1	1	Библиотека ЦОК https://m.edsoo.ru/7f415fdc
2	Описательная статистика	8	1	1	Библиотека ЦОК https://m.edsoo.ru/7f415fdc
3	Случайная изменчивость	6		1	Библиотека ЦОК https://m.edsoo.ru/7f415fdc
4	Введение в теорию графов	4			Библиотека ЦОК https://m.edsoo.ru/7f415fdc
5	Вероятность и частота случайного события	4		1	Библиотека ЦОК https://m.edsoo.ru/7f415fdc
6	Обобщение, систематизация знаний	5	1		Библиотека ЦОК https://m.edsoo.ru/7f415fdc
ОБЩЕЕ КОЛИЧЕСТВО ЧАСОВ ПО ПРОГРАММЕ		34	3	4	

8 КЛАСС

№ п/п	Наименование разделов и тем программы	Количество часов			Электронные (цифровые) образовательные ресурсы
		Всего	Контрольные работы	Практические работы	
1	Повторение курса 7 класса	4			Библиотека ЦОК https://m.edsoo.ru/7f417fb2
2	Описательная статистика. Рассеивание данных	4			Библиотека ЦОК https://m.edsoo.ru/7f417fb2
3	Множества	4			Библиотека ЦОК https://m.edsoo.ru/7f417fb2
4	Вероятность случайного события	6		1	Библиотека ЦОК https://m.edsoo.ru/7f417fb2
5	Введение в теорию графов	4			Библиотека ЦОК https://m.edsoo.ru/7f417fb2
6	Случайные события	8			Библиотека ЦОК https://m.edsoo.ru/7f417fb2
7	Обобщение, систематизация знаний	4	2		Библиотека ЦОК https://m.edsoo.ru/7f417fb2
ОБЩЕЕ КОЛИЧЕСТВО ЧАСОВ ПО ПРОГРАММЕ		34	2	1	

9 КЛАСС

№ п/п	Наименование разделов и тем программы	Количество часов			Электронные (цифровые) образовательные ресурсы
		Всего	Контрольные работы	Практические работы	
1	Повторение курса 8 класса	4			Библиотека ЦОК https://m.edsoo.ru/7f41a302
2	Элементы комбинаторики	4		1	Библиотека ЦОК https://m.edsoo.ru/7f41a302
3	Геометрическая вероятность	4			Библиотека ЦОК https://m.edsoo.ru/7f41a302
4	Испытания Бернулли	6		1	Библиотека ЦОК https://m.edsoo.ru/7f41a302
5	Случайная величина	6			Библиотека ЦОК https://m.edsoo.ru/7f41a302
6	Обобщение, контроль	10	1		Библиотека ЦОК https://m.edsoo.ru/7f41a302
ОБЩЕЕ КОЛИЧЕСТВО ЧАСОВ ПО ПРОГРАММЕ		34	1	2	

ПОУРОЧНОЕ ПЛАНИРОВАНИЕ

7 КЛАСС

№ п/п	Тема урока	Количество часов			Дата изучения	Электронные цифровые образовательные ресурсы
		Всего	Контрольные работы	Практические работы		
1	Представление данных в таблицах	1				Библиотека ЦОК https://m.edsoo.ru/863ec1f8
2	Практические вычисления по табличным данным	1				Библиотека ЦОК https://m.edsoo.ru/863ec324
3	Извлечение и интерпретация табличных данных	1				Библиотека ЦОК https://m.edsoo.ru/863ec78e
4	Стартовая контрольная работа	1	1			
5	Анализ стартовой контрольной работы. Графическое представление данных в виде круговых, столбиковых (столбчатых) диаграмм	1				Библиотека ЦОК https://m.edsoo.ru/863ed18e
6	Чтение и построение диаграмм. Примеры демографических диаграмм	1				Библиотека ЦОК https://m.edsoo.ru/863ed602
7	Практическая работа "Диаграммы"	1		1		Библиотека ЦОК https://m.edsoo.ru/863ed72e
8	Числовые наборы. Среднее арифметическое	1				Библиотека ЦОК https://m.edsoo.ru/863ed846
9	Числовые наборы. Среднее арифметическое	1				Библиотека ЦОК https://m.edsoo.ru/863ed846

10	Медиана числового набора. Устойчивость медианы	1				Библиотека ЦОК https://m.edsoo.ru/863edb3e
11	Медиана числового набора. Устойчивость медианы	1				
12	Практическая работа "Средние значения"	1		1		Библиотека ЦОК https://m.edsoo.ru/863edc6a
13	Наибольшее и наименьшее значения числового набора. Размах	1				Библиотека ЦОК https://m.edsoo.ru/863ee07a
14	Наибольшее и наименьшее значения числового набора. Размах	1				
15	Наибольшее и наименьшее значения числового набора. Размах	1				
16	Контрольная работа по темам "Представление данных. Описательная статистика"	1	1			Библиотека ЦОК https://m.edsoo.ru/863ee390
17	Случайная изменчивость (примеры)	1				Библиотека ЦОК https://m.edsoo.ru/863ee4bc
18	Частота значений в массиве данных	1				Библиотека ЦОК https://m.edsoo.ru/863ee69c
19	Группировка	1				Библиотека ЦОК https://m.edsoo.ru/863ee9d0
20	Гистограммы	1				
21	Гистограммы	1				Библиотека ЦОК https://m.edsoo.ru/863eee1c
22	Практическая работа "Случайная	1		1		Библиотека ЦОК

	изменчивость"					https://m.edsoo.ru/863eccc8
23	Граф, вершина, ребро. Представление задачи с помощью графа	1				Библиотека ЦОК https://m.edsoo.ru/863eef52
24	Степень (валентность) вершины. Число рёбер и суммарная степень вершин. Цепь и цикл	1				Библиотека ЦОК https://m.edsoo.ru/863ef0ba
25	Цепь и цикл. Путь в графе. Представление о связности графа	1				Библиотека ЦОК https://m.edsoo.ru/863ef236
26	Представление об ориентированных графах	1				Библиотека ЦОК https://m.edsoo.ru/863ef3b2
27	Случайный опыт и случайное событие	1				Библиотека ЦОК https://m.edsoo.ru/863ef4d4
28	Вероятность и частота события. Роль маловероятных и практически достоверных событий в природе и в обществе	1				Библиотека ЦОК https://m.edsoo.ru/863ef646
29	Монета и игральная кость в теории вероятностей	1				
30	Практическая работа "Частота выпадения орла"	1		1		Библиотека ЦОК https://m.edsoo.ru/863ef8a8
31	Повторение, обобщение. Описательная статистика	1				Библиотека ЦОК https://m.edsoo.ru/863f0186
32	Повторение, обобщение. Представление данных	1				Библиотека ЦОК https://m.edsoo.ru/863efa24
33	Итоговая контрольная работа в рамках промежуточной аттестации	1	1			Библиотека ЦОК https://m.edsoo.ru/863efbaa

34	Анализ итоговой контрольной работы в рамках промежуточной аттестации. Повторение, обобщение. Вероятность случайного события	1				Библиотека ЦОК https://m.edsoo.ru/863efec0
ОБЩЕЕ КОЛИЧЕСТВО ЧАСОВ ПО ПРОГРАММЕ		34	3	4		

8 КЛАСС

№ п/п	Тема урока	Количество часов			Дата изучения	Электронные цифровые образовательные ресурсы
		Всего	Контрольные работы	Практические работы		
1	Представление данных. Описательная статистика	1				Библиотека ЦОК https://m.edsoo.ru/863f029e
2	Случайная изменчивость. Средние числового набора	1				Библиотека ЦОК https://m.edsoo.ru/863f03fc
3	Случайные события. Вероятности и частоты.	1				Библиотека ЦОК https://m.edsoo.ru/863f0578
4	Классические модели теории вероятностей: монета и игральная кость. Входная контрольная работа	1	1			Библиотека ЦОК https://m.edsoo.ru/863f076c
5	Анализ входной контрольной работы. Отклонения	1				Библиотека ЦОК https://m.edsoo.ru/863f0a50
6	Дисперсия числового набора	1				Библиотека ЦОК https://m.edsoo.ru/863f0a50
7	Стандартное отклонение числового набора	1				Библиотека ЦОК https://m.edsoo.ru/863f0bfe
8	Диаграммы рассеивания	1				Библиотека ЦОК https://m.edsoo.ru/863f0ea6
9	Множество, подмножество	1				Библиотека ЦОК https://m.edsoo.ru/863f1180
10	Операции над множествами: объединение, пересечение, дополнение	1				Библиотека ЦОК https://m.edsoo.ru/863f143c

11	Свойства операций над множествами: переместительное, сочетательное, распределительное, включения	1				Библиотека ЦОК https://m.edsoo.ru/863f1784
12	Графическое представление множеств	1				Библиотека ЦОК https://m.edsoo.ru/863f198c
13	Контрольная работа по темам "Статистика. Множества"	1	1			
14	Элементарные события. Случайные события	1				Библиотека ЦОК https://m.edsoo.ru/863f1dec
15	Благоприятствующие элементарные события. Вероятности событий	1				Библиотека ЦОК https://m.edsoo.ru/863f1dec
16	Благоприятствующие элементарные события. Вероятности событий	1				Библиотека ЦОК https://m.edsoo.ru/863f1f72
17	Опыты с равновероятными элементарными событиями. Случайный выбор	1				Библиотека ЦОК https://m.edsoo.ru/863f21ca
18	Опыты с равновероятными элементарными событиями. Случайный выбор	1				Библиотека ЦОК https://m.edsoo.ru/863f21ca
19	Практическая работа "Опыты с равновероятными элементарными событиями"	1			1	Библиотека ЦОК https://m.edsoo.ru/863f235a
20	Дерево	1				Библиотека ЦОК https://m.edsoo.ru/863f2a4e
21	Свойства дерева: единственность	1				Библиотека ЦОК

	пути, существование висячей вершины, связь между числом вершин и числом рёбер				https://m.edsoo.ru/863f2bac
22	Правило умножения	1			Библиотека ЦОК https://m.edsoo.ru/863f2cd8
23	Правило умножения	1			Библиотека ЦОК https://m.edsoo.ru/863f2e36
24	Противоположное событие	1			Библиотека ЦОК https://m.edsoo.ru/863f2f8a
25	Диаграмма Эйлера. Объединение и пересечение событий	1			Библиотека ЦОК https://m.edsoo.ru/863f3214
26	Несовместные события. Формула сложения вероятностей	1			Библиотека ЦОК https://m.edsoo.ru/863f3372
27	Несовместные события. Формула сложения вероятностей	1			Библиотека ЦОК https://m.edsoo.ru/863f3764
28	Правило умножения вероятностей. Условная вероятность. Независимые события	1			Библиотека ЦОК https://m.edsoo.ru/863f38ae
29	Правило умножения вероятностей. Условная вероятность. Независимые события	1			Библиотека ЦОК https://m.edsoo.ru/863f3b06
30	Представление случайного эксперимента в виде дерева	1			Библиотека ЦОК https://m.edsoo.ru/863f3cbe
31	Представление случайного эксперимента в виде дерева	1			Библиотека ЦОК https://m.edsoo.ru/863f3f20
32	Повторение, обобщение. Представление данных. Описательная статистика	1			Библиотека ЦОК https://m.edsoo.ru/863f4128

33	Итоговая контрольная работа в рамках промежуточной аттестации	1	1			Библиотека ЦОК https://m.edsoo.ru/863f4312
34	Анализ итоговой контрольной работы в рамках промежуточной аттестации. Повторение, обобщение. Графы.	1				
ОБЩЕЕ КОЛИЧЕСТВО ЧАСОВ ПО ПРОГРАММЕ		34	3	1		

9 КЛАСС

№ п/п	Тема урока	Количество часов			Дата изучения	Электронные цифровые образовательные ресурсы
		Всего	Контрольные работы	Практические работы		
1	Представление данных	1				Библиотека ЦОК https://m.edsoo.ru/863f47ea
2	Описательная статистика	1				Библиотека ЦОК https://m.edsoo.ru/863f47ea
3	Операции над событиями	1				
4	Независимость событий. Входная контрольная работа	1	1			
5	Анализ входной контрольной работы. Комбинаторное правило умножения	1				Библиотека ЦОК https://m.edsoo.ru/863f4e16
6	Перестановки. Факториал. Сочетания и число сочетаний	1				Библиотека ЦОК https://m.edsoo.ru/863f4e16
7	Треугольник Паскаля	1				Библиотека ЦОК https://m.edsoo.ru/863f5014
8	Практическая работа "Вычисление вероятностей с использованием комбинаторных функций электронных таблиц"	1		1		Библиотека ЦОК https://m.edsoo.ru/863f5208
9	Геометрическая вероятность. Случайный выбор точки из фигуры на плоскости, из отрезка, из дуги окружности	1				Библиотека ЦОК https://m.edsoo.ru/863f5884

10	Геометрическая вероятность. Случайный выбор точки из фигуры на плоскости, из отрезка, из дуги окружности	1				Библиотека ЦОК https://m.edsoo.ru/863f5a50
11	Геометрическая вероятность. Случайный выбор точки из фигуры на плоскости, из отрезка, из дуги окружности	1				Библиотека ЦОК https://m.edsoo.ru/863f5bfe
12	Геометрическая вероятность. Случайный выбор точки из фигуры на плоскости, из отрезка, из дуги окружности	1				Библиотека ЦОК https://m.edsoo.ru/863f5e10
13	Испытание. Успех и неудача. Серия испытаний до первого успеха	1				Библиотека ЦОК https://m.edsoo.ru/863f6162
14	Испытание. Успех и неудача. Серия испытаний до первого успеха	1				Библиотека ЦОК https://m.edsoo.ru/863f6356
15	Испытание. Успех и неудача. Серия испытаний до первого успеха	1				
16	Испытания Бернулли. Вероятности событий в серии испытаний Бернулли	1				Библиотека ЦОК https://m.edsoo.ru/863f64d2
17	Испытания Бернулли. Вероятности событий в серии испытаний Бернулли	1				Библиотека ЦОК https://m.edsoo.ru/863f6680
18	Практическая работа "Испытания	1		1		Библиотека ЦОК https://m.edsoo.ru/863f67de

	Бернулли"					
19	Случайная величина и распределение вероятностей	1				Библиотека ЦОК https://m.edsoo.ru/863f6b44
20	Математическое ожидание и дисперсия случайной величины	1				Библиотека ЦОК https://m.edsoo.ru/863f6da6
21	Примеры математического ожидания как теоретического среднего значения величины	1				Библиотека ЦОК https://m.edsoo.ru/863f6f86
22	Понятие о законе больших чисел	1				Библиотека ЦОК https://m.edsoo.ru/863f72c4
23	Измерение вероятностей с помощью частот	1				Библиотека ЦОК https://m.edsoo.ru/863f7652
24	Применение закона больших чисел	1				Библиотека ЦОК https://m.edsoo.ru/863f7116
25	Обобщение, систематизация знаний. Представление данных	1				Библиотека ЦОК https://m.edsoo.ru/863f783c
26	Обобщение, систематизация знаний. Описательная статистика	1				
27	Обобщение, систематизация знаний. Представление данных. Описательная статистика	1				Библиотека ЦОК https://m.edsoo.ru/863f893a
28	Обобщение, систематизация знаний. Вероятность случайного события	1				Библиотека ЦОК https://m.edsoo.ru/863f7a4e
29	Обобщение, систематизация знаний. Вероятность случайного события. Элементы комбинаторики	1				Библиотека ЦОК https://m.edsoo.ru/863f7c9c

30	Обобщение, систематизация знаний. Элементы комбинаторики	1				Библиотека ЦОК https://m.edsoo.ru/863f7e54
31	Обобщение, систематизация знаний. Элементы комбинаторики. Случайные величины и распределения	1				Библиотека ЦОК https://m.edsoo.ru/863f8408
32	Обобщение, систематизация знаний. Случайные величины и распределения	1				Библиотека ЦОК https://m.edsoo.ru/863f861a
33	Итоговая контрольная работа в рамках промежуточной аттестации	1	1			Библиотека ЦОК https://m.edsoo.ru/863f8b56
34	Анализ итоговой контрольной работы в рамках промежуточной аттестации. Обобщение, систематизация знаний	1				
ОБЩЕЕ КОЛИЧЕСТВО ЧАСОВ ПО ПРОГРАММЕ		34	2	2		

ПРИЛОЖЕНИЕ.

КОНТРОЛЬНО - ИЗМЕРИТЕЛЬНЫЕ МАТЕРИАЛЫ

7 класс

Стартовая диагностическая работа

Вариант 1

1. В таблице представлены города России с числом жителей по данным переписи населения в 2002 году.

город	население
Волгоград	1 013
Екатеринбург	1 293
Казань	1 105
Москва	10 358
Омск	1 134
Пермь	1 000
Уфа	1 042

город	население
Нижний Новгород	1 311
Новосибирск	1 426
Ростов – на – Дону	1 070
Самара	1 158
Санкт – Петербург	4 669
Челябинск	1 078
Мурманск	1 147

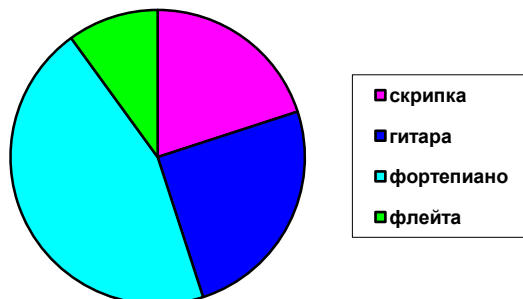
По данным таблицы укажите:

- а) наименее населенные города (менее 1 100 тыс. жителей);
 - б) города, в которых более 3 тыс. жителей;
 - в) общее количество жителей в указанных городах.
2. В таблице приведены площади некоторых материков и частей света.

Постройте столбиковую диаграмму, отражающую данные таблицы.

Название	Европа	Азия	Африка	Северная Америка	Южная Америка	Австралия	Антарктида
Площадь	10	44	30	24	18	8	14

3. На круговой диаграмме показано, как распределились учащиеся музыкальной школы по классам игры на различных музыкальных инструментах.



Используя диаграмму, ответьте на вопросы:

а) каким музыкальным инструментом занимаются учащиеся чаще всего? Каким меньше всего?

б) найдите приблизительно количество детей, занимающихся по классу гитары, если в школе занимается 220 человек.

Вариант 2

1. В таблице представлены города России с числом жителей по данным переписи населения в 1979 году.

город	население
Волгоград	926
Екатеринбург	1 210
Казань	989
Москва	8 057
Омск	1 016
Перь	1 089
Уфа	977

город	население
Нижний Новгород	1 324
Новосибирск	1 309
Ростов – на – Дону	925
Самара	1 192
Санкт – Петербург	4 569
Челябинск	1 030
Мурманск	1 175

По данным таблицы укажите:

а) наиболее населенные города (более 1 300 тыс. жителей);

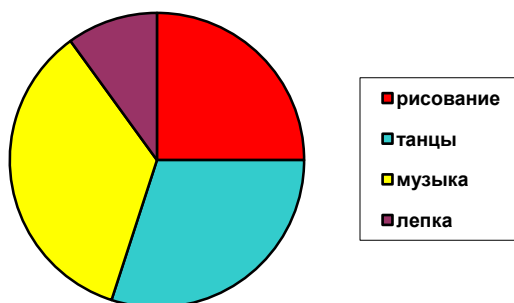
б) города, в которых менее 1 тыс. жителей;

в) общее количество жителей в указанных городах.

2. В таблице показано количество осадков, выпавших в течение недели (в миллиметрах). Постройте столбиковую диаграмму, отражающую данные таблицы.

День	Понед	Вторник	Среда	Четверг	Пятница	Суббота	Воскресенье
количество	20	14	4	60	82	68	54

3. На круговой диаграмме показано, как распределились дети, посещающие школу искусств.



Используя диаграмму, ответьте на вопросы:

а) каким видом искусства занимаются дети чаще всего? Каким меньше всего?

б) найдите приблизительно количество детей, занимающихся рисованием, если в школе занимается 180 человек.

Контрольная работа «Представление данных. Описательная статистика»

Вариант 1

1. Измерили массу 8 шоколадных батончиков и записали их массу:

33 г, 34 г, 35 г, 33 г, 38 г, 36 г, 40 г, 39 г.

а) расположите полученные значения по возрастанию.

- б) найдите среднее значение массы и размах полученного набора.
2. Пользуясь результатами задачи 1, найдите медиану показаний массы батончиков. Сколько показаний больше и сколько показаний меньше медианы?
3. Дан набор чисел: $-2; 0; 1; 3; 6; 12; -1; 5$.
- а) Найдите наибольшее и наименьшее значения набора.
- б) Найдите размах этого набора.
- в) Найдите среднее значение.
- г) Найдите дисперсию набора чисел.

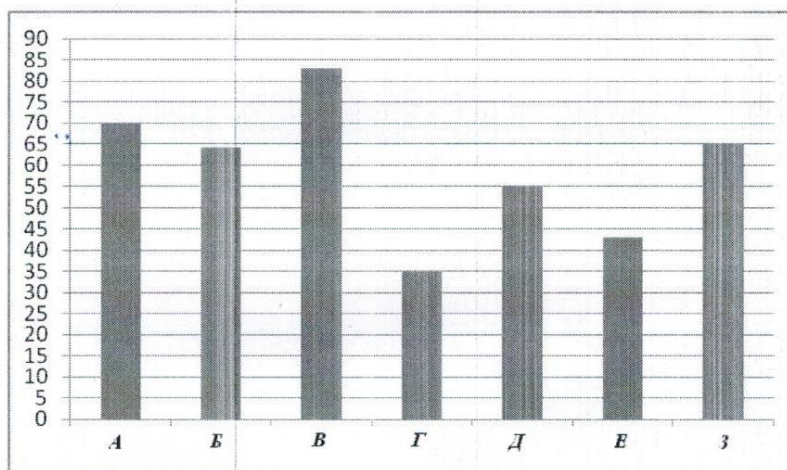
Вариант 2

1. В воду погрузили 8 термометров и записали их показания:
 $30^\circ, 31^\circ, 28^\circ, 33^\circ, 36^\circ, 37^\circ, 30^\circ, 35^\circ$.
- а) расположите полученные значения по возрастанию.
- б) найдите среднее значение температуры и размах полученного набора.
2. Пользуясь результатами задачи 1, найдите медиану показаний термометров. Сколько показаний больше и сколько показаний меньше медианы?
3. Дан набор чисел: $-2; 0; 1; 4; -3; 14; -1; 3$.
- а) Найдите наибольшее и наименьшее значения набора.
- б) Найдите размах этого набора.
- в) Найдите среднее значение
- г) Найдите дисперсию набора чисел.

Итоговая контрольная работа в рамках промежуточной аттестации

Вариант 1

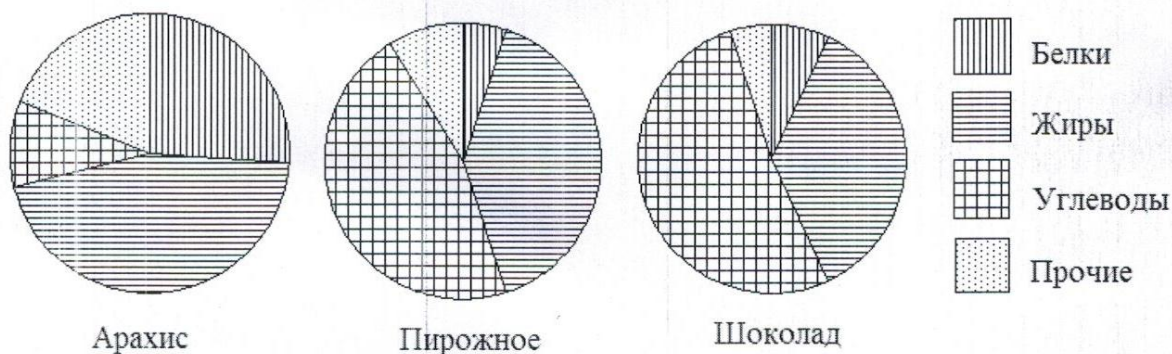
1 Рейтинговое агентство проводило опрос среди покупателей «Какой книжный магазин вам больше нравится?» Столбиковая диаграмма показывает рейтинги семи магазинов (в баллах) по результатам опроса.



По диаграмме определите:

- какой магазин получил наибольшее число голосов по результатам опроса;
- сколько магазинов набрало более 60 баллов?

2 На рисунке показаны три круговые диаграммы, отражающие содержание питательных веществ в трех разных продуктах.



- Определите, в каком из этих продуктов содержание белков наибольшее;
- определите, каких питательных веществ больше всего в шоколаде.

3 В таблице указано количество проданной минеральной воды (в тыс. бутылок) в весенние и летние месяцы за три года (по данным компании-производителя).

	2007	2008	2009
Март	100	105	111
Апрель	104	109	109
Май	112	110	119
Июнь	119	126	130
Июль	120	125	121
Август	110	120	127

а) Вычислите медиану данных за все летние месяцы.

б) Вычислите медиану данных за все весенние месяцы.

в) Дайте возможное объяснение тому, что найденные показатели существенно отличаются друг от друга.

4 В лаборатории производится анализ крови. Содержание гемоглобина в крови вычисляется как среднее арифметическое результатов нескольких измерений.

Таблица содержит результаты пяти измерений гемоглобина (г/л) в одной пробе крови пациентки.

Номер измерения	1	2	3	4	5
Содержание гемоглобина (г/л)	130	140	110	50	120

а) Найдите среднее арифметическое результатов измерений;

б) Найдите дисперсию измерений.

Выбрано правило: если квадрат отклонения некоторого значения от среднего арифметического превышает дисперсию больше чем в 3,5 раза, то это значение считается ненадежным (выбросом) и в дальнейшем не учитывается.

в) Определите, является ли значение 50 ненадежным в соответствии с выбранным правилом.

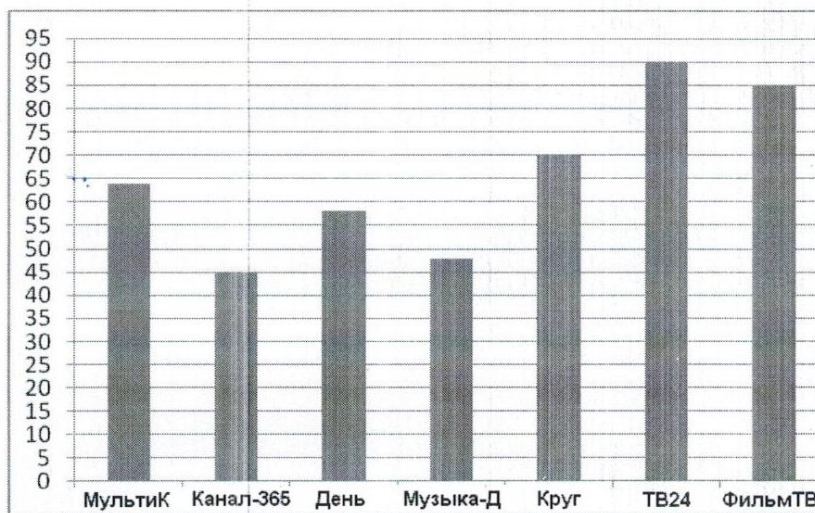
г) Найдите среднее арифметическое всех надежных значений.

д) Нормальное содержание гемоглобина в крови у женщин 120–150 г/л. Можно ли считать, что у данной пациентки нормальное содержание гемоглобина?

5 В школе два седьмых класса. В первом 20 учеников, и их средний рост равен 159 см. Во втором – 30 учеников, их средний рост равен 154 см. Найдите средний рост всех семиклассников школы.

Вариант 2

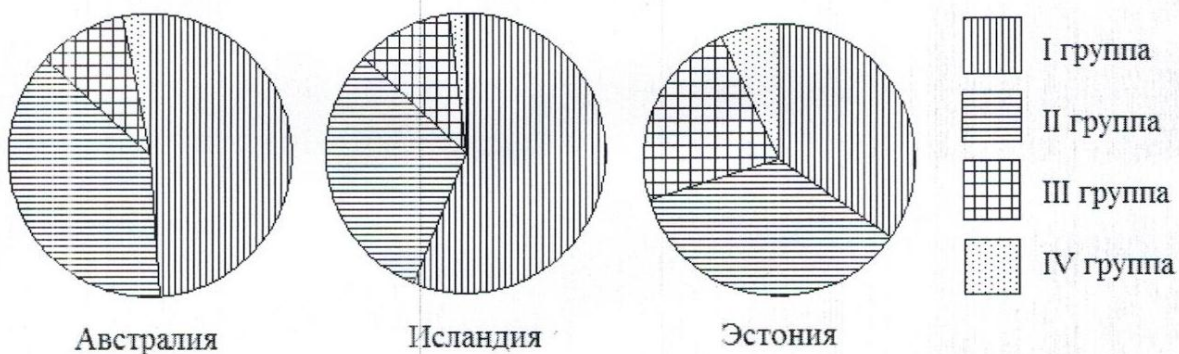
- 1 Рейтинговое агентство проводило опрос среди телезрителей «Какой телеканал Вам больше нравится?» На диаграмме показаны рейтинги семи телевизионных каналов (в баллах) по результатам опроса.



По диаграмме определите:

- какой канал получил наименьшее число голосов по результатам опроса;
- сколько каналов набрали менее 50 баллов?

- 2 Круговые диаграммы показывают распределение населения по группам крови в трех странах.



- Определите, в какой из этих стран наибольшая доля людей с III группой крови.
- определите, какая группа крови наиболее распространена в Австралии.

3 В таблице указано количество проданных порций мороженого (в тыс. штук) в летние и осенние месяцы за три года (по данным компании-производителя).

	2006	2007	2008
Июнь	802	822	843
Июль	817	899	915
Август	507	558	543
Сентябрь	450	495	500
Октябрь	225	248	254
Ноябрь	211	374	411

а) Вычислите медиану данных за все летние месяцы.

б) Вычислите медиану данных за все осенние месяцы.

в) Дайте возможное объяснение тому, что найденные показатели отличаются друг от друга.

4 В лаборатории производится анализ крови. Содержание сахара в крови вычисляется как среднее арифметическое результатов нескольких измерений.

Таблица содержит результаты пяти измерений содержания сахара (г/л) в одной пробе крови взрослого пациента.

Номер измерения	1	2	3	4	5
Содержание сахара (г/л)	120	180	110	90	100

а) Найдите среднее арифметическое результатов измерений;

б) Найдите дисперсию результатов измерений.

Выбрано правило: если квадрат отклонения значения от среднего арифметического превышает дисперсию больше чем в 3,5 раза, то это значение считается ненадежным (выбросом) и в дальнейшем не учитывается.

в) Определите, является ли значение 180 ненадежным в соответствии с выбранным правилом.

г) Найдите среднее арифметическое всех надежных значений.

д) Нормальное содержание сахара в крови взрослого 80–110 г/л. Можно ли считать, что у данного пациента нормальное содержание сахара в крови?

5 В школе два восьмых класса. В первом 30 учеников, и их средний рост равен 162 см. Во втором – 20 учеников, их средний рост равен 157 см.

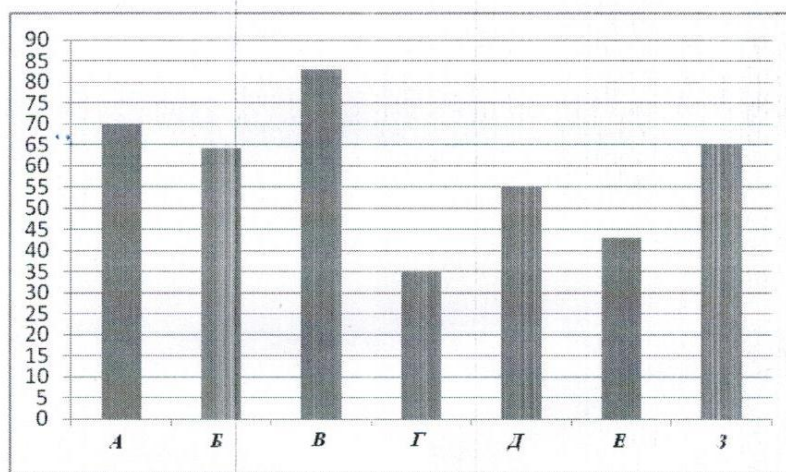
Найдите средний рост всех восьмиклассников школы.

8 класс

Стартовая диагностическая работа

Вариант 1

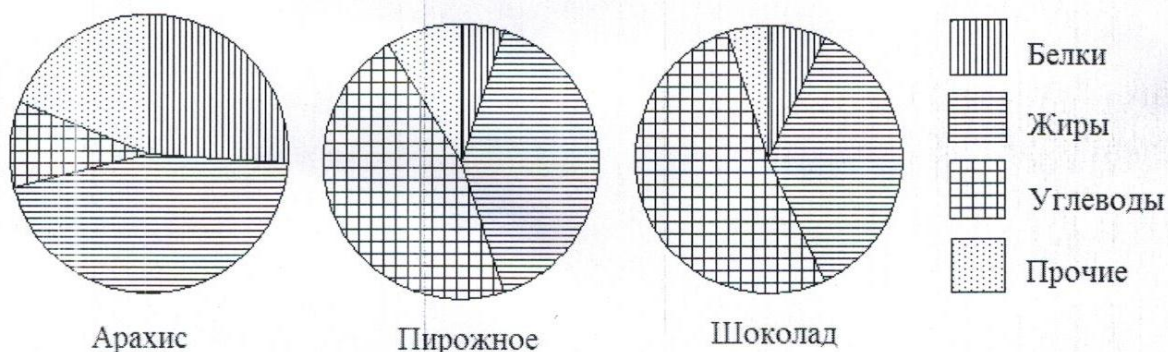
- 1 Рейтинговое агентство проводило опрос среди покупателей «Какой книжный магазин вам больше нравится?» Столбиковая диаграмма показывает рейтинги семи магазинов (в баллах) по результатам опроса.



По диаграмме определите:

- какой магазин получил наибольшее число голосов по результатам опроса;
- сколько магазинов набрало более 60 баллов?

- 2 На рисунке показаны три круговые диаграммы, отражающие содержание питательных веществ в трех разных продуктах.



- Определите, в каком из этих продуктов содержание белков наибольшее;
- определите, каких питательных веществ больше всего в шоколаде.

3 В таблице указано количество проданной минеральной воды (в тыс. бутылок) в весенние и летние месяцы за три года (по данным компании-производителя).

	2007	2008	2009
Март	100	105	111
Апрель	104	109	109
Май	112	110	119
Июнь	119	126	130
Июль	120	125	121
Август	110	120	127

- а) Вычислите медиану данных за все летние месяцы.
 б) Вычислите медиану данных за все весенние месяцы.
 в) Дайте возможное объяснение тому, что найденные показатели существенно отличаются друг от друга.

4 В лаборатории производится анализ крови. Содержание гемоглобина в крови вычисляется как среднее арифметическое результатов нескольких измерений.

Таблица содержит результаты пяти измерений гемоглобина (г/л) в одной пробе крови пациентки.

Номер измерения	1	2	3	4	5
Содержание гемоглобина (г/л)	130	140	110	50	120

- а) Найдите среднее арифметическое результатов измерений;
 б) Найдите дисперсию измерений.

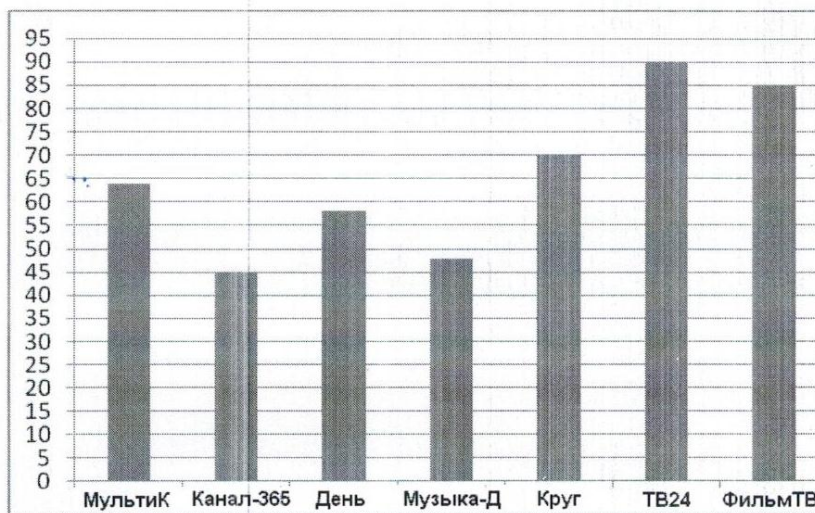
Выбрано правило: если квадрат отклонения некоторого значения от среднего арифметического превышает дисперсию больше чем в 3,5 раза, то это значение считается ненадежным (выбросом) и в дальнейшем не учитывается.

- в) Определите, является ли значение 50 ненадежным в соответствии с выбранным правилом.
 г) Найдите среднее арифметическое всех надежных значений.
 д) Нормальное содержание гемоглобина в крови у женщин 120–150 г/л. Можно ли считать, что у данной пациентки нормальное содержание гемоглобина?

5 В школе два седьмых класса. В первом 20 учеников, и их средний рост равен 159 см. Во втором – 30 учеников, их средний рост равен 154 см. Найдите средний рост всех семиклассников школы.

Вариант 2

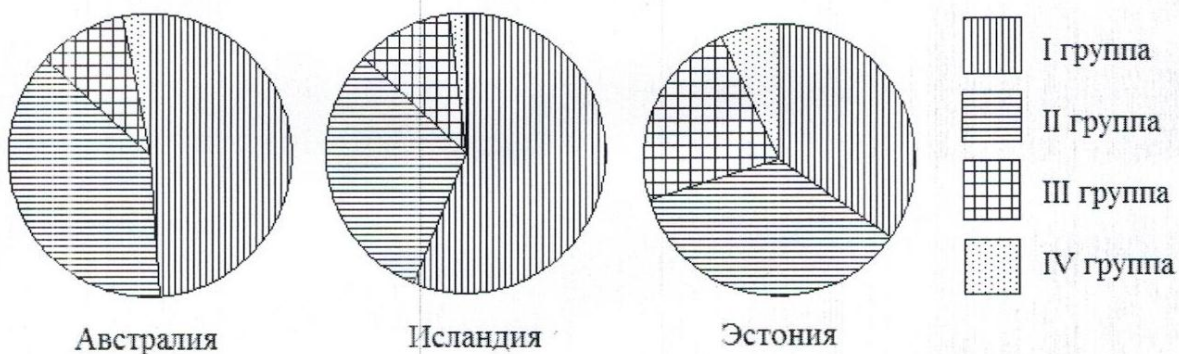
- 1 Рейтинговое агентство проводило опрос среди телезрителей «Какой телеканал Вам больше нравится?» На диаграмме показаны рейтинги семи телевизионных каналов (в баллах) по результатам опроса.



По диаграмме определите:

- какой канал получил наименьшее число голосов по результатам опроса;
- сколько каналов набрали менее 50 баллов?

- 2 Круговые диаграммы показывают распределение населения по группам крови в трех странах.



- Определите, в какой из этих стран наибольшая доля людей с III группой крови.
- определите, какая группа крови наиболее распространена в Австралии.

3 В таблице указано количество проданных порций мороженого (в тыс. штук) в летние и осенние месяцы за три года (по данным компании-производителя).

	2006	2007	2008
Июнь	802	822	843
Июль	817	899	915
Август	507	558	543
Сентябрь	450	495	500
Октябрь	225	248	254
Ноябрь	211	374	411

а) Вычислите медиану данных за все летние месяцы.

б) Вычислите медиану данных за все осенние месяцы.

в) Дайте возможное объяснение тому, что найденные показатели отличаются друг от друга.

4 В лаборатории производится анализ крови. Содержание сахара в крови вычисляется как среднее арифметическое результатов нескольких измерений.

Таблица содержит результаты пяти измерений содержания сахара (г/л) в одной пробе крови взрослого пациента.

Номер измерения	1	2	3	4	5
Содержание сахара (г/л)	120	180	110	90	100

а) Найдите среднее арифметическое результатов измерений;

б) Найдите дисперсию результатов измерений.

Выбрано правило: если квадрат отклонения значения от среднего арифметического превышает дисперсию больше чем в 3,5 раза, то это значение считается ненадежным (выбросом) и в дальнейшем не учитывается.

в) Определите, является ли значение 180 ненадежным в соответствии с выбранным правилом.

г) Найдите среднее арифметическое всех надежных значений.

д) Нормальное содержание сахара в крови взрослого 80–110 г/л. Можно ли считать, что у данного пациента нормальное содержание сахара в крови?

5 В школе два восьмых класса. В первом 30 учеников, и их средний рост равен 162 см. Во втором – 20 учеников, их средний рост равен 157 см.

Найдите средний рост всех восьмиклассников школы.

Контрольная работа «Статистика. Множества»

ВАРИАНТ №1.	ВАРИАНТ №2.
<p>1. Укажите все подмножества данного множества: $A = \{3, 4, \{4\}\}$</p> <p>2. Найдите $A \cup B$ и $A \cap B$, если А) $A = \{x \mid x = 3n, n \in \mathbb{N}\}$ $B = \{x \mid x = 6n, n \in \mathbb{N}\}$ В) $A = \{1, 2, 3, 7\}$, $B = \{1, 8, 7, 3\}$</p> <p>3. Используя числовую прямую, найдите пересечение и объединение множеств $A = \{x \mid x \in \mathbb{Q}, x < 6\}$, $B = \{x \mid x \in \mathbb{Q}, -4 < x \leq 5\}$</p> <p>4. Какие фигуры могут быть пересечением двух лучей, которые лежат на одной прямой? (иллюстрация, запись)</p> <p>5. В классе 30 учеников. 18 из них занимаются спортом и 17- занимаются английским языком. Сколько учеников занимаются спортом и изучают английский язык?</p>	<p>1. Укажите все подмножества данного множества: $A = \{a, b, \{a, b\}\}$</p> <p>2. Найдите $A \cup B$ и $A \cap B$, если А) $A = \{x \mid x = 2n, n \in \mathbb{N}\}$ $B = \{x \mid x = 4n, n \in \mathbb{N}\}$ В) $A = \{3, 4, 9, 11\}$, $B = \{3, 5, 9, 13\}$</p> <p>3. Используя числовую прямую, найдите пересечение и объединение множеств $A = \{x \mid x \in \mathbb{Q}, x < 3\}$, $B = \{x \mid x \in \mathbb{Q}, -2 < x \leq 2\}$</p> <p>4. Какие фигуры могут быть объединением двух лучей, которые лежат на одной прямой? (иллюстрация, запись)</p> <p>5. Известно, что 25 учеников класса содержат кошек собак, у 18 из них есть собаки, а у 16 - кошки. Сколько учеников имеют и собак и кошек?</p>

Итоговая контрольная работа в рамках промежуточной аттестации

Вариант 1

1. Слово «Информатика» написали на картонке и разрезали картонку на буквы. Буквы перемешали. Найдите вероятность вытащить наудачу картонку с согласной буквой.

2. В результате некоторого опыта с вероятностью 0,56 может наступить событие А, с вероятностью 0,28 — событие В и с вероятностью 0,19 — событие $A \cap B$. Найдите вероятность события $A \cup B$? Верно ли, что событие $A \cup B$ достоверное?

3. Игральную кость бросают дважды. Найдите вероятность того, что в первый раз выпадет нечетное число, а во второй — число, меньшее чем 4.
4. В экзамене 9 вопросов. К каждому вопросу дано 2 варианта ответов, из которых только один вариант верный. Найдите вероятность того, что, отвечая наугад, ученик даст хотя бы один неверный ответ.
5. В вазочке на шкафу 8 конфет с фруктовой начинкой и 7— с молочной. Все конфеты одинаковы по форме и размеру. Маша дотянулась рукой до вазочки и, не глядя, выбирает 6 конфет. Найдите вероятность того, что все выбранные конфеты имеют молочную начинку.

Вариант 2

1. В барабане лотереи 25 одинаковых шаров. Шары пронумерованы от 1 до 25. Барабан вращается, и из него выпадает один шар. Найдите вероятность того, что номер шара — нечетное число.
2. В результате некоторого опыта с вероятностью 0,81 может наступить событие A , с вероятностью 0,49 — событие B и с вероятностью 0,27 — событие $A \cap B$. Найдите вероятность события $A \cup B$. Является ли событие $A \cup B$ достоверным?
3. Игральную кость бросают дважды. Найдите вероятность того, что в первый раз выпадет четное число, а во второй — число, большее чем 2.
4. В экзамене 8 вопросов. К каждому вопросу дано 2 варианта ответов, из которых только один вариант верный. Найдите вероятность того, что, отвечая наугад, ученик правильно ответит хотя бы на один вопрос.
5. В кармане у Буратино 7 золотых и 13 серебряных монет. Все монеты одинаковы по форме и размеру. Буратино, не глядя, вынимает из кармана 5 монет. Найдите вероятность того, что все эти монеты — золотые.

9 класс

Итоговая контрольная работа в рамках промежуточной аттестации

Вариант 1

1. Максим выбирает трехзначное число. Найдите вероятность того, что оно делится на 11.

2. У бабушки 10 чашек: 6 с красными цветами, остальные – с синими. Бабушка наливает чай в случайно выбранную чашку. Найдите вероятность того, что это будет чашка с синими цветами.

3. Вычислите:

$$1) \frac{3P_{12} - P_{11}}{7P_{10}}; \quad 2) \frac{A_5^2}{C_6^3}.$$

4. В школе семь учителей математики и шесть учителей информатики. Нужно создать экзаменационную комиссию из двух учителей информатики и четырех учителей математики. Сколькими способами это можно сделать?

5. Определите вероятность того, что при бросании кубика выпало нечетное число очков?

6. Одновременно бросают три симметричные монеты. Какова вероятность того, что выпадут два орла и одна решка?

7. В соревнованиях по толканию ядра участвуют 5 спортсменов из Аргентины, 10 спортсменов из Бразилии, 6 спортсменов из Парагвая и 7 – из Уругвая. Порядок, в котором выступают спортсмены, определяется жребием. Найдите вероятность того, что спортсмен, который выступает последним, окажется из Уругвая.

8. Вероятность того, что новый сканер прослужит больше года, равна 0,96. Вероятность того, что он прослужит больше двух лет, равна 0,87. Найдите вероятность того, что он прослужит меньше двух лет, но больше года.

9. Какова вероятность того, что случайно выбранное натуральное число от 25 до 39 делится на 5?

10. Вероятность того, что на тесте по истории обучающийся верно решит больше 10 задач, равна 0,61. Вероятность того, что он решит больше 9 задач, равна 0,69. Найдите вероятность того, что ученик верно решит ровно 10 задач.

Вариант 2

1. На экзамене 50 билетов, Коля не выучил 9 из них. Найдите вероятность того, что ему попадет выученный билет.

2. На блюде 35 пирожков: 9 с мясом, 12 с яйцом и 14 с рыбой. Катя наугад выбирает один пирожок. Найдите вероятность того, что он окажется с рыбой.

3. Вычислите:

$$1) \frac{{}^6P_{11} - P_{10}}{{}^{13}P_9}; \quad 2) \frac{C_7^4}{A_6^3}.$$

4. В библиотеке читателю предложили на выбор из новых поступлений 10 книг и 4 журнала. Сколькими способами он может выбрать из них 3 книги и 2 журнала?

5. Саша наудачу выбирает двузначное число. Найдите вероятность того, что оно оканчивается на 6.

6. Одновременно бросают три симметричные монеты. Какова вероятность того, что выпадут три орла?

7. В случайном эксперименте бросают две игральные кости. Найдите вероятность того, что в сумме выпадет 4 очка. Результат округлите до сотых.

8. Вероятность того, что новый сканер прослужит больше года, равна 0,95. Вероятность того, что он прослужит больше двух лет, равна 0,83. Найдите вероятность того, что он прослужит меньше двух лет, но больше года.

9. Какова вероятность того, что случайно выбранное натуральное число от 42 до 66 делится на 6?

10. Вероятность того, что на тесте по биологии обучающийся верно решит больше 9 задач, равна 0,64. Вероятность того, что он решит больше 8

задач, равна 0,7. Найдите вероятность того, что ученик верно решит ровно 9 задач.

УЧЕБНО-МЕТОДИЧЕСКОЕ ОБЕСПЕЧЕНИЕ ОБРАЗОВАТЕЛЬНОГО ПРОЦЕССА

ОБЯЗАТЕЛЬНЫЕ УЧЕБНЫЕ МАТЕРИАЛЫ ДЛЯ УЧЕНИКА

1. И.Р. Высоцкий, И.В. Яценко. Математика. Универсальный многоуровневый сборник задач. 7 – 9 классы. В 3 частях. Статистика. Вероятность. Комбинаторика. Практические задачи. М, «Просвещение», 2022
2. Ю.Н.Тюрин, А.А.Макаров, И.Р.Высоцкий, И.В.Яценко Теория вероятностей и статистика – 2-е изд., переработанное. – М.: МЦНМО: ОАО «Московские учебники», 2021

МЕТОДИЧЕСКИЕ МАТЕРИАЛЫ ДЛЯ УЧИТЕЛЯ

1. Математическая вертикаль. Теория вероятностей и статистика 7–9 классы : учеб. пособие для общеобразоват. орг. : / Высоцкий И.Р., Макаров А.А., Тюрин Ю.Н. и др. под. ред. Яценко И.В.. — М. : Просвещение, 2020.
2. Ю.Н.Тюрин, А.А.Макаров, И.Р.Высоцкий, И.В.Яценко Теория вероятностей и статистика: Методическое пособие для учителя – 2-е изд., исправленное и доработанное – М.:МЦНМО: МИОО, 2008.

ЦИФРОВЫЕ ОБРАЗОВАТЕЛЬНЫЕ РЕСУРСЫ И РЕСУРСЫ СЕТИ ИНТЕРНЕТ

[HTTPS://RESH.EDU.RU/](https://resh.edu.ru/)

[HTTPS:// SKYSMART.RU /](https://skysmart.ru/)

[HTTPS://WWW.YAKLASS.RU](https://www.yaklass.ru)